

**Проверочная работа
по предмету «ОКРУЖАЮЩИЙ МИР»**

3 класс

Образец

Инструкция по выполнению работы

Проверочная работа по предмету «ОКРУЖАЮЩИЙ МИР». 3 класс. Образец. Инструкция по выполнению работы.

На выполнение работы по предмету «Окружающий мир» даётся 45 минут. Работа включает в себя 14 заданий. Ответы на задания запиши в поле ответа в тексте работы. При выполнении работы не разрешается пользоваться учебником, рабочими тетрадями и другими справочными материалами. Советуем выполнять задания в том порядке, в котором они даны. Для экономии времени пропускай задание, которое не удаётся выполнить сразу, и переходи к следующему. Постарайся выполнить как можно больше заданий.

Желаем успеха!

1. Что изображено на фотографии?
Как люди обычно используют эти предметы?

Ответ: _____



2. Представитель какой профессии изображён на фотографии? Какие качества характера ты считаешь наиболее важными для людей этой профессии? Назови два-три качества и поясни свой выбор.



Ответ: _____

3. На каких рисунках изображены объекты живой природы? Запиши номера рисунков.



1)



2)



3)



4)

Ответ: _____

























4. К какому из указанных ниже космических тел относится следующее описание?

«Небольшое небесное тело, обращающееся вокруг Солнца. Иногда оно образует хвост из газа и пыли».

- 1) комета;
- 2) планета;
- 3) звезда;
- 4) метеорит.

Ответ:


**На интернет-сайтах погоды можно встретить подобные таблицы.
Внимательно изучи прогноз погоды на трое суток.**

	Пятница, 29 января				Суббота, 30 января				Воскресенье, 31 января			
	Ночь	Утро	День	Вечер	Ночь	Утро	День	Вечер	Ночь	Утро	День	Вечер
Облачность и атмосферные осадки												
Температура, °С	-23	-32	-25	-27	-24	-19	-17	-20	-22	-22	-17	-16
Ветер												
	ЮВ	В	В	ЮВ	ЮВ	ЮВ	ЮВ	ЮВ	ЮВ	В	З	З

5. Выбери верное утверждение о погоде на эти трое суток.

- 1) Температура воздуха за трое суток не поднимется выше -26°C .
- 2) В пятницу днём ожидается очень морозная ясная погода.
- 3) Всё светлое время суток в субботу будет идти снег.

Ответ:



6. На основе таблицы из предыдущего задания выбери правильный ответ на вопрос. Что обозначается в таблице значком  ?

- 1) ясное небо;
- 2) направление ветра;
- 3) температура воздуха.

Ответ:

7. Ты знаешь, что для того, чтобы семена проросли, необходимы определённые условия. Алёна решила выяснить роль одного из таких условий, проведя следующий опыт. Она взяла два одинаковых стакана, положила в каждый из них влажную тряпочку и насыпала по 15 семян гороха. Один стакан она оставила в классе на столе, а другой убрала в закрытый шкаф. Вскоре она обнаружила, что в обоих стаканах семена проросли.

Какой из выводов могла сделать Алёна по результатам своего опыта?



- 1) Для проращивания семян необходимо брать разные стаканы.
- 2) Для проращивания семян необходимо наличие солнечного света.
- 3) Для проращивания семян не требуется солнечный свет.
- 4) Для проращивания семян необходима сухая тряпочка.

Ответ:

8. Вера решила высадить на своём дачном участке сливу, которую она вырастила из косточки в цветочном горшке. Расставь по порядку номера действий, которые она должна осуществить.



Запиши номера действий в правильном порядке.

- 1) выкопать ямку в земле;
- 2) поместить растение в ямку вместе с почвой из цветочного горшка;
- 3) полить высаженную сливу;
- 4) засыпать ямку землёй;
- 5) полить выкопанную ямку водой.

Ответ:

Рассмотри рисунки и выполни задания 9 и 10.

Внимательно рассмотри фрагмент карты. На нём серым цветом выделена территория.



9. Как называется эта территория?

Ответ: _____

10. Ниже представлены изображения животных. Какие три из этих животных обитают в естественной среде (не в зоопарке) на территории, выделенной на карте на предыдущей странице? Запиши номера, под которыми указаны эти животные.




1)



4)



2)



5)



3)



6)

Ответ:

--	--	--	--	--	--

11. В каждом случае к началу фразы подбери её продолжение так, чтобы верно составить правило: для этого к каждой позиции первого столбца подбери соответствующую позицию из второго столбца.

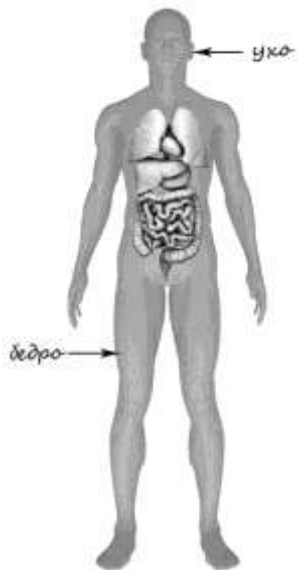
Начало фразы	Продолжение фразы
А) Чтобы избежать кишечных инфекций,	1) нужно наложить на неё стерильную повязку
Б) Чтобы пот не вредил коже,	2) нужно тщательно мыть сырые овощи и фрукты
В) Чтобы в рану не попала инфекция,	3) нужно регулярно принимать душ

Ответ запиши в таблицу:

Начало фразы	А	Б	В
Продолжение фразы			

12. Рассмотрите изображение человека. На изображении справа покажите стрелками и подпишите стопа, плечо, желудок человека.

Пример:



Ответ:



13.Рядом с твоим домом установили три бака для раздельного сбора бытового мусора.



Какие предметы ты положишь в бак «стекло»? Запиши номера этих предметов.

- 1) старое зеркало;
- 2) порванную плюшевую игрушку;
- 3) разбитую чашку;
- 4) осколки вазы для цветов;
- 5) изрисованный альбом.

Ответ: _____

14.Внимательно рассмотри знак, который можно встретить, например, в лесопарке.

Как ты думаешь, какое правило установлено этим знаком?



Напиши это правило.

Ответ: _____

